

Name: _____ Klasse: _____

Datum: _____



Die Euro-Scheine

Hier findest du alle Euro-Geldscheine.





Zwei Geldscheine fehlen in jeder Reihe. Male die Scheine in den Kästen.

Aufgabe 1.



Aufgabe 2.



Name: _____ Klasse: _____

Datum: _____

Die Euro- und Cent-Münzen

LÖSUNG

Hier findest du alle Euro-Geldscheine.



Zwei Geldscheine fehlen in jeder Reihe. Male die Scheine in den Kästen.

Aufgabe 1.



Aufgabe 2.

