


Name: _____ Klasse: _____ Datum: _____

Zentimeter messen

ARBEITSBLATT

Aufgabe 1



1 Wie viele Zentimeter sind die Buntstifte lang?

Der Buntstift **1** ist _____ Zentimeter lang.


Der Buntstift **2** ist _____ Zentimeter lang.

Der Buntstift **3** ist _____ Zentimeter lang.

Der Buntstift **4** ist _____ Zentimeter lang.

Aufgabe 2

Käfer 1



Käfer 2



Wie weit sind die Marienkäfer gelaufen?

Käfer 1 Zentimeter


Käfer 2 Zentimeter

Name: _____ Klasse: _____ Datum: _____

Zentimeter messen

LÖSUNG

Aufgabe 1



1 Wie viele Zentimeter sind die Buntstifte lang?

Der Buntstift **1** ist **20** Zentimeter lang.

Der Buntstift **2** ist **15** Zentimeter lang.

Der Buntstift **3** ist **13** Zentimeter lang.

Der Buntstift **4** ist **10** Zentimeter lang.

Aufgabe 2

Käfer 1



Käfer 2



Wie weit sind die Marienkäfer gelaufen?

Käfer 1 Zentimeter

Käfer 2 Zentimeter