

Name: _____ Klasse: _____

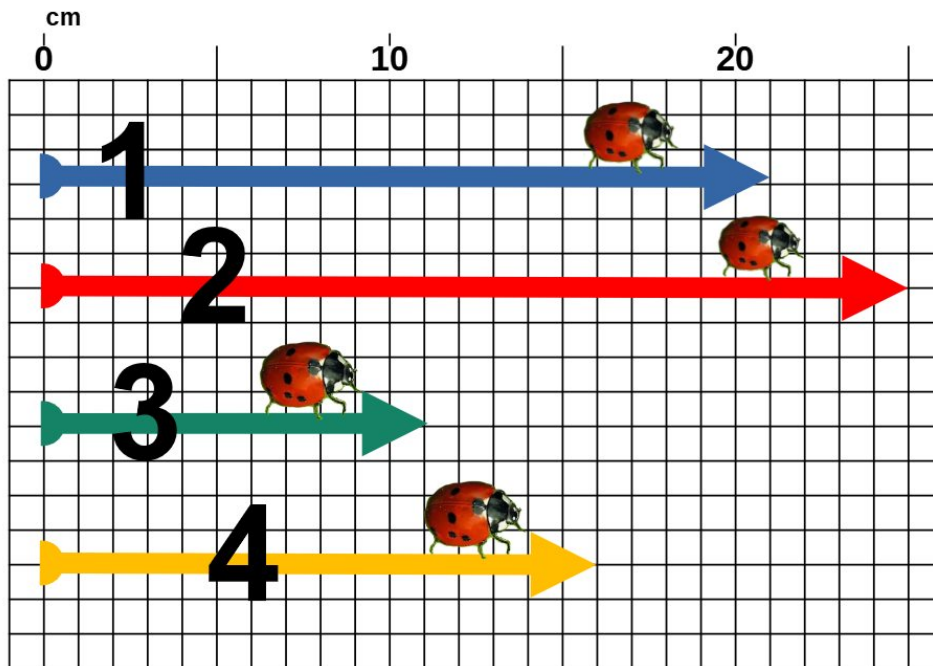
Datum: _____

Zentimeter und Millimeter messen

ARBEITSBLATT

Aufgabe 1

Wie weit sind die Marienkäfer gelaufen?



Antwort:

Käfer 1: ___ cm

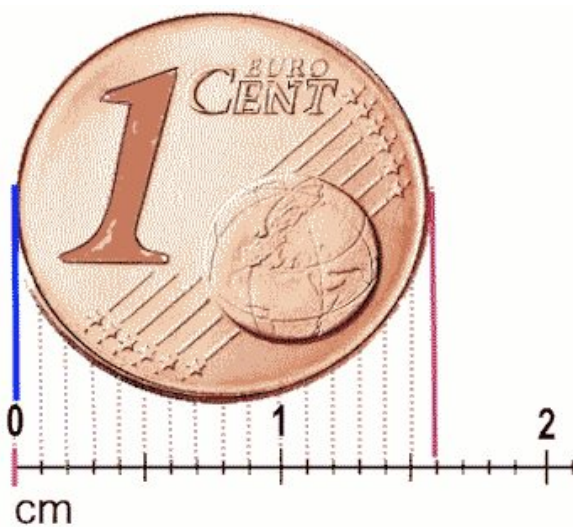
Käfer 2: ___ cm

Käfer 3: ___ cm

Käfer 4: ___ cm

Aufgabe 2

Wie breit ist die 1-Cent-Münze? Du musst die Breite in Zentimetern und Millimetern messen.



Antwort:

Die Münze ist ___ cm und ___ mm breit.

Weißt du auch, wie hoch die Münze ist?

Die Münze ist ___ cm und ___ mm hoch.

Name: _____ Klasse: _____

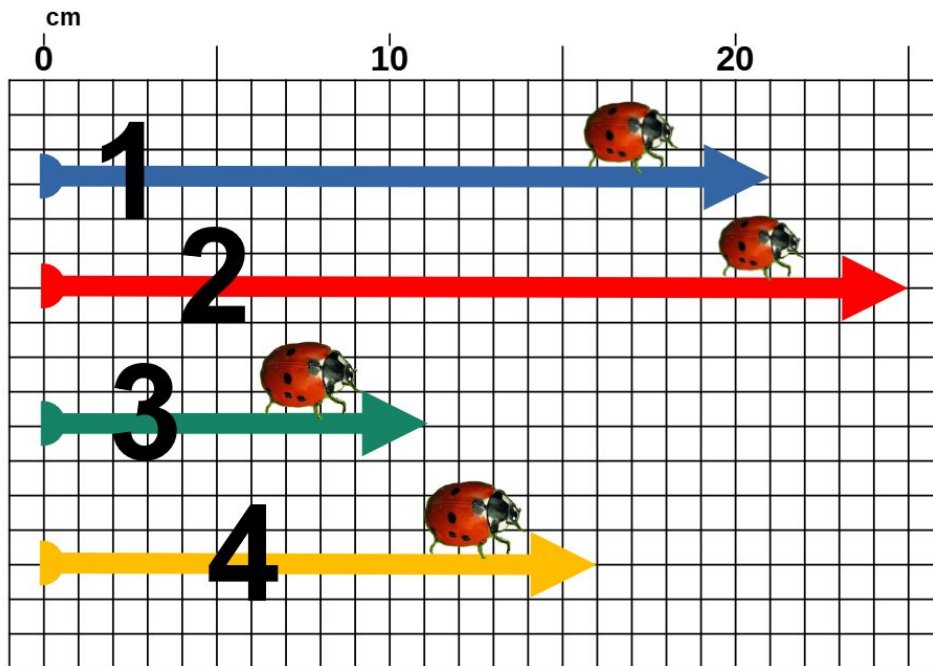
Datum: _____

Zentimeter und Millimeter messen

LÖSUNG

Aufgabe 1

Wie weit sind die Marienkäfer gelaufen?



Antwort:

Käfer 1: 21 cm


Käfer 2: 25 cm

Käfer 3: 11 cm

Käfer 4: 16 cm

Aufgabe 2

Wie breit ist die 1-Cent-Münze? Du musst die Breite in Zentimetern und Millimetern messen.



Antwort:

Die Münze ist 1 cm und 6 mm breit.

Weißt du auch, wie hoch die Münze ist?

Die Münze ist 1 cm und 6 mm hoch.